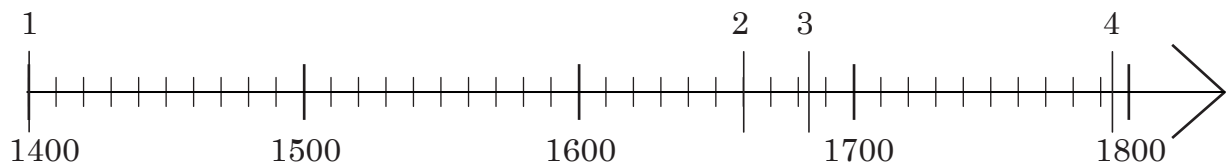


Zadanie 2.

Wydarzeniom w tabelce przyporządkuj daty zaznaczone na osi czasu. W odpowiednich miejscach tabelki wpisz cyfry 1, 2, 3 i 4.


a)	bitwa pod Wiedniem	
b)	odnowienie Akademii Krakowskiej	
c)	wybuch powstania kościuszkowskiego	
d)	podpisanie pokoju kończącego konflikt ze Szwedami określany jako potop	



Zadanie 3.

Zaznacz trzy informacje związane z postacią przedstawioną na ilustracji.

- Był astronomem.
- Pochodził z Torunia.
- „Wstrzymał Ziemię, ruszył Słońce”.
- Studiował w Akademii Krakowskiej.
- Był uczonym zajmującym się biologią.



Domena publiczna

Mikołaj Kopernik

Zadanie 4.

Podane niżej zdania zakwalifikuj jako prawdę lub fałsz. Dopisz obok nich w kolejnych rubrykach tabelki odpowiednią literę: P (prawda) lub F (fałsz).

a)	Husaria to machina oblężnicza używana do przełamywania linii wroga lub rozrywania jego sztyków.	
b)	Autorem słów <i>Pieśni Legionów Polskich we Włoszech</i> był Józef Wybicki.	
c)	W okresie powstania styczniowego na ziemiach zaboru rosyjskiego działało utworzone przez Polaków tajne państwo.	

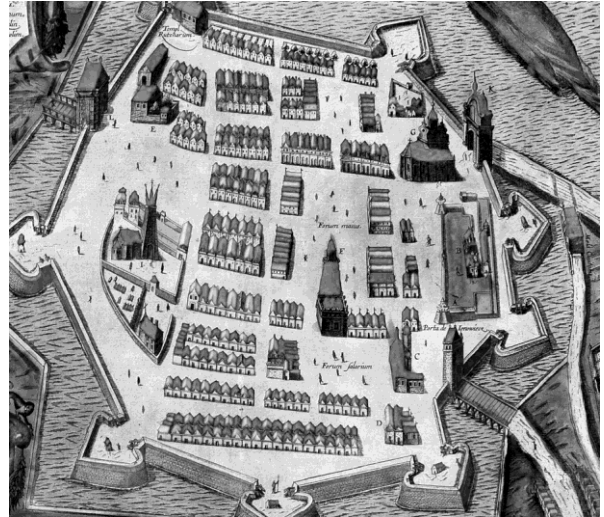
Zadanie 5.

Przyjrzyj się ilustracjom, a następnie zaznacz prawidłowe odpowiedzi.



Domena publiczna

1. Obrona Jasnej Góry



Domena publiczna

2. Plan Zamościa



Domena publiczna

3. Patrol powstańczy



Domena publiczna

4. Konstytucja 3 maja

a) Wydarzenie ukazane na ilustracji oznaczonej numerem 1

- nastąpiło w XVI w.
- jest związane z potopem szwedzkim.
- doprowadziło do upadku państwa polskiego.
- jest związane z działalnością Jana Zamoyskiego.

b) Ilustracja przedstawiająca próbę naprawy państwa polskiego została oznaczona numerem

1. 2. 3. 4.

c) Ilustracja ukazująca wydarzenie, do którego doszło w okresie zaborów, została oznaczona numerem

1. 2. 3. 4.

