

Pytania do powtórzenia: Złoty wiek

Zadanie 1.

Wyjaśnij, z jaką postawą władcy Rzeczypospolitej wiąże się stwierdzenie: „Nie jestem królem waszych sumień”.

.....

.....

Zadanie 2.

Przyjrzyj się mapie (na następnej stronie), a następnie wykonaj polecenia.

a) Wyjaśnij, z jakim wydarzeniem jest związana ta mapa.

.....





b) Podaj rok tego wydarzenia.

.....

c) Określ, jakie zmiany terytorialne zaszły na obszarze Korony i Wielkiego Księstwa Litewskiego w związku z tym wydarzeniem.

.....

.....

Legenda	
	– granice Rzeczypospolitej
	– granica między Koroną a Wielkim Księstwem Litewskim
	– ziemie wcielone do Korony
	– lenna



Zadanie 3.

Przyjrzyj się ilustracji, a następnie wykonaj polecenia.

a) Podaj nazwę budowli ukazanej na ilustracji.

.....

b) Określ, w jakim stylu architektonicznym została zbudowana.

.....

c) Podaj dwie cechy tego stylu.

.....

.....



Zadanie 4.

Przeanalizuj tabelkę i odpowiedz na pytania.

Sprzedaż zboża przez Gdańsk							
Rok	1470	1492	1557	1583	1618	1641	1650
Zboże w łasztach	2 200	10 200	40 500	62 781	116 289	91 087	87 040

(1 łaszt = 2,2–2,4 tony zboża)

a) Określ, jakie wydarzenie umożliwiło swobodną sprzedaż zboża przez Królestwo Polskie za pośrednictwem portu w Gdańsku.

.....

b) Określ, w której połowie którego wieku ilość sprzedanego zboża była najniższa.


.....

c) Podaj lata, między którymi wzrost sprzedaży zboża był największy.

.....

Zadanie 5.

Ustal, jaka cyfra spośród zaznaczonych na osi czasu odpowiada podanym niżej wydarzeniom. Przy każdym wpisz właściwą cyfrę



hołd pruski —

pierwsza wolna elekcja —

przyłączenie Mazowsza do Korony —

koronacja Zygmunta III Wazy na króla Polski —